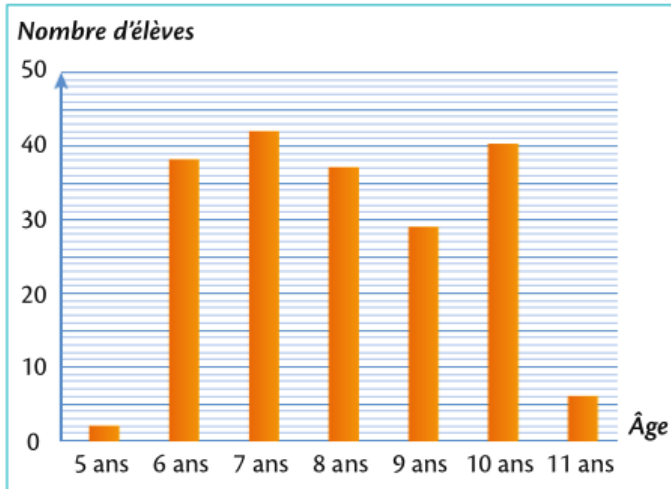
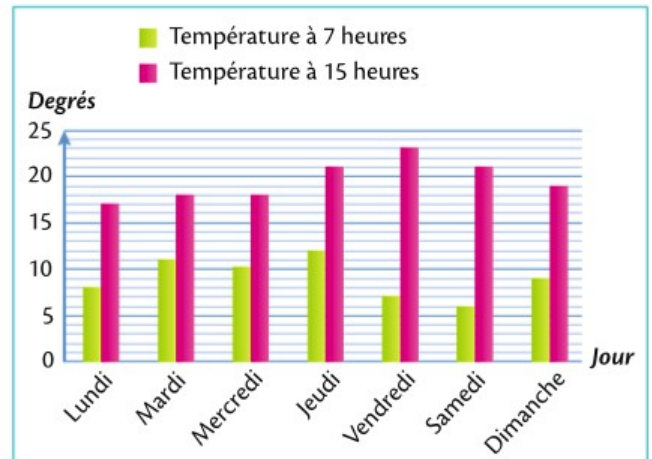


- \* **1** Ce diagramme indique le nombre d'élèves de chaque âge dans l'école de Tess.



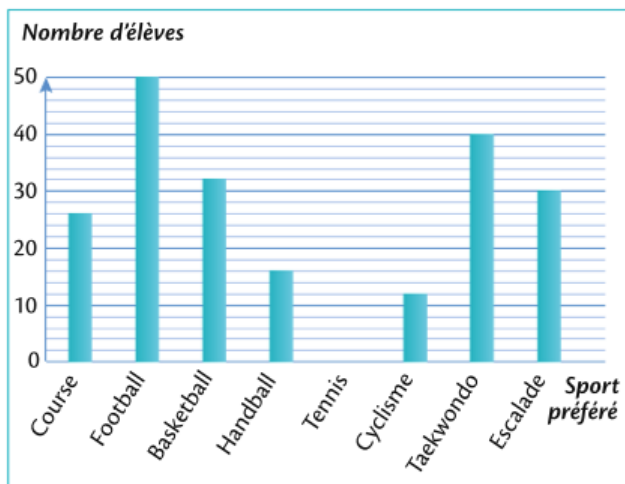
- a. Combien d'élèves de 8 ans y a-t-il ?  
 b. À quel âge correspond 6 élèves ?  
 c. À quel âge correspond 40 élèves ?  
 d. Adèle a l'âge qui est le plus représenté dans l'école. Quel est son âge ?

- \* **2** Noa a relevé la température à 7 h et à 15 h tous les jours de la semaine.



- a. Quelle était la température jeudi à 15 h ?  
 b. Quelle était la température mardi à 7 h ?  
 c. Quel matin a-t-il fait le plus froid ? Indique la température relevée.  
 d. Quel après-midi a-t-il fait le plus chaud ? Indique la température relevée.

- \* **3** Sofian a fait une enquête auprès de 246 élèves pour connaître leur sport préféré.



- a. Combien d'élèves préfèrent les sports de ballon ?  
 b. Sofian a oublié de compléter le nombre d'élèves qui préfèrent le tennis. Calcule-le.  
 c. Quel est le sport préféré des élèves ? Combien sont-ils à préférer ce sport ?

- \* **4** Voici les mesures du diamètre des planètes de notre système solaire.



**Classe-les dans un tableau dans l'ordre croissant de leur diamètre.**